

Контрольная работа по окружающему миру. 1 класс (рубежная)

1 вариант

А 1. Выбери верное утверждение и отметь знаком «х».

- 1) Камни – это предметы неживой природы.
- 2) Камни – это предметы живой природы.
- 3) Камни - сделаны руками человека.
- 4) Камни – это космические тела.

А 2. Выбери и отметь знаком «х» естественный спутник Земли.

- 1) Венера
- 2) Луна
- 3) Солнце
- 4) Малая Медведица

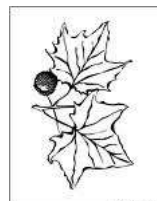
А 3. Назови комнатные растения и отметь их знаком «х».

- 1) одуванчик
- 2) береза
- 3) герань
- 4) гладиолус

А 4. Почему осенью облетает листва с деревьев? Отметь правильный ответ знаком «х».

- 1) листья сдувает ветром
- 2) потому, что деревьям холодно
- 3) листья сбивает дождем.
- 4) корни деревьев не могут впитывать влагу из промерзшей земли.

А 5. Какое растение является хвойным? Отметь знаком «х».



А 6. Какое животное относится к рыбам? Отметь знаком «х».

1) крокодил

2) кит

3) лягушка

4) щука

А 7. Как человек использует гранит? Выбери правильный ответ и отметь знаком «х».

1) для изготовления посуды

2) в строительстве.

3) для изготовления лекарств

4) для отопления помещений

В 8. Тело каких животных не покрыто перьями? Отметь знаком «х».

1) птиц

2) рыб

3) насекомых

4) зверей

В 9. Соедини названия месяцев с названием времени года.

Январь, май, ноябрь февраль, апрель, июнь, март, октябрь, август, декабрь, июль, сентябрь

Весна Лето Осень Зима

С 10. Найди ошибки, исправь и допиши ещё по 2 названия.

Деревья – дуб, сирень, тополь, пихта, _____

Кустарники – шиповник, малина, рябина, _____

Травы - подорожник, одуванчик, лиственница, клевер, _____

2 вариант

А 1. Выбери верное утверждение и отметь знаком «х».

- 1) Песок – это предметы неживой природы.
- 2) Песок – это предметы живой природы.
- 3) Песок - сделаны руками человека.
- 4) Песок – это космические тела.

А 2. Выбери и отметь знаком «х» звезду.

- 1) Венера
- 2) Луна
- 3) Солнце
- 4) Малая Медведица

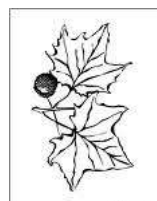
А 3. Назови не комнатные растения и отметь их знаком «х».

- 1) одуванчик
- 2) береза
- 3) герань
- 4) гладиолус

А 4. Каких животных называют млекопитающими? Отметь знаком «х».

- 1) всех
- 2) птиц
- 3) зверей
- 4) рыб

А 5. Какие растения является лиственными? Отметь знаком «х».



А 6. Какое животное относится к млекопитающим? Отметь знаком «х».

- 1) крокодил
- 2) кит
- 3) лягушка
- 4) щука

А 7. Как человек использует уголь? Выбери правильный ответ и отметь знаком «х».

- 1) для изготовления посуды
- 2) в строительстве.
- 3) для изготовления лекарств
- 4) для отопления помещений

В 8. Тело каких животных не покрыто шерстью? Отметь знаком «х».

- 1) птиц
- 2) рыб
- 3) насекомых
- 4) зверей

В 9. Соедини названия месяцев с названием времени года.

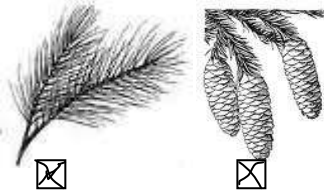
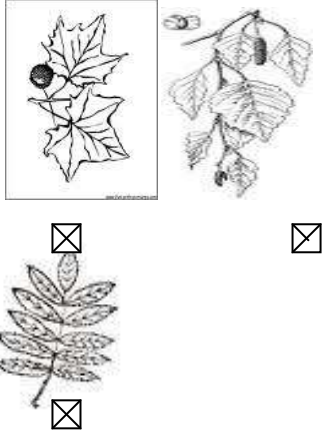
Январь, май, ноябрь февраль, апрель, июнь, март, октябрь, август, декабрь, июль, сентябрь

Весна Лето Осень Зима

С 10. Найди ошибки, исправь и допиши ещё по 2 названия.

- 1) Деревья – дуб, шиповник, тополь, пихта, _____
- 2) Кустарники – сирень, смородина, рябина, _____
- 3) Травы - подорожник, одуванчик, береза, клевер, _____

Ключи

№ задания	1 вариант	2 вариант
А 1.	1.	1.
А 2	2.	3.
А 3	3.	1, 2, 4
А 4	4.	3.
А 5		
А 6	4.	2.
А 7	2.	4.
В 8	2, 3, 4	1, 2, 3.
С10	Сирень Рябина Лиственница	Шиповник Рябина береза

В 9 *Январь, май, ноябрь февраль, апрель, июнь, март, октябрь, август, декабрь, июль, сентябрь*

Весна

Лето

Осень

Зима